



Umkehraufgaben

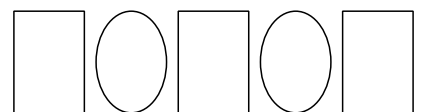
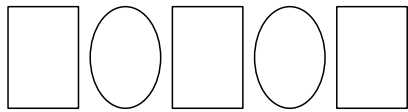
1




○ ○ ○ ○ ○ ○ ○ ○ ○ ○ ○ ○ ○ ○ ○ ○




○ ○ ○ ○ ○ ○ ○ ○ ○ ○ ○ ○ ○ ○ ○ ○



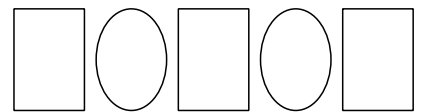
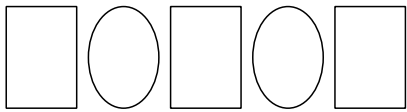
2




○ ○ ○ ○ ○ ○ ○ ○ ○ ○ ○ ○ ○ ○ ○ ○




○ ○ ○ ○ ○ ○ ○ ○ ○ ○ ○ ○ ○ ○ ○ ○



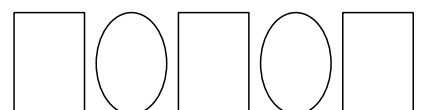
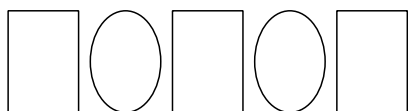
3



○ ○ ○ ○ ○ ○ ○ ○ ○ ○ ○ ○ ○ ○ ○ ○



○ ○ ○ ○ ○ ○ ○ ○ ○ ○ ○ ○ ○ ○ ○ ○



Umkehraufgaben

1

● ● ● ~~●~~ ~~●~~ ○ ○ ○ ○ ○ ○

$$5 - 2 = 3$$

2

● ● ● ~~●~~ ○ ○ ○ ○ ○ ○

$$4 - 1 = 3$$

2

● ● ● ● ○ ○ ○ ○ ○ ○

$$3 + 1 = 4$$

3

● ● ● ● ● ○ ○ ○ ○ ○ ○

$$4 + 2 = 6$$

3

● ● ● ● ~~●~~ ~~●~~ ○ ○ ○ ○ ○ ○

$$6 - 2 = 4$$

1

● ● ● ● ● ○ ○ ○ ○ ○ ○

$$3 + 2 = 5$$

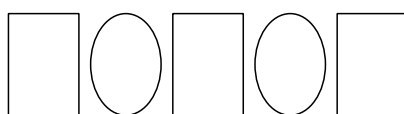
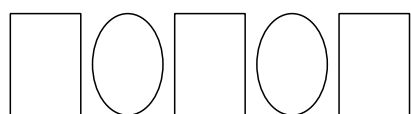
Umkehraufgaben



Erfinde selbst Aufgabe und Umkehraufgabe!

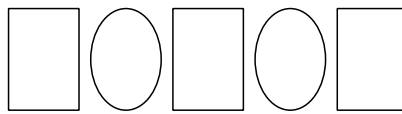
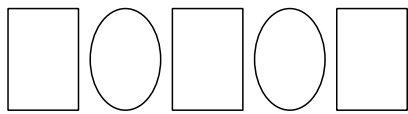
1

1



2

2



3

3

